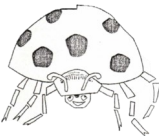







LUNDI		MARDI		MERCREDI		JEUDI		VENDREDI		SAMEDI		DIMANCHE	
1	2	3	4	5	6	7	8	9	10	11	12		
13	14	15	16	17	18	19	20	21	22	23	24		
25	26	27	28	29	30	31							
SEPTEMBRE	OCTOBRE	NOVEMBRE	DECEMBRE	JANVIER	FEVRIER	MARS	AVRIL	MAI	JUIN	JUILLET	AOUT		

Colle le bon nombre d'animaux dans chaque case.

5		
4		
7		
6		
8		
10		

Ecris combien tu vois d'animaux dans chaque case.

