

Les solides (2)

Objectifs :
 • reconnaître quelques solides dont le cube et le pavé droit ;
 • découvrir et utiliser le vocabulaire face, sommet et arête.

CALCUL MENTAL

Faire ajouter 10 à une dizaine entière < 90.
 Écrire la somme.

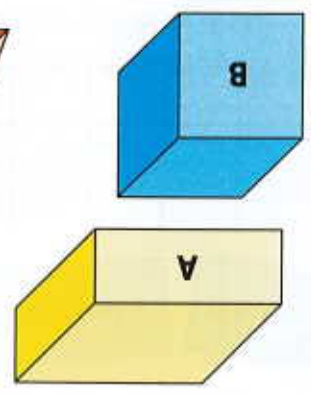
1 Observe, lis et complète.

Une boîte de sucre est un
 Une boîte à chaussures est un
 Une boîte de savon est un pavé droit.
 Une boîte de pois est un cube.

2

Qui suis-je ? Écris la lettre qui correspond au solide.

- Mes faces sont des carrés.
- Mes faces sont des rectangles.
- Mes faces sont des triangles.

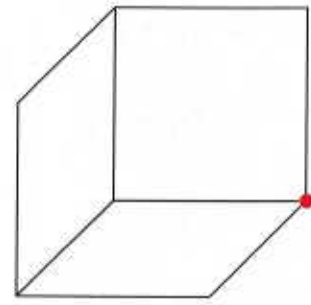


3

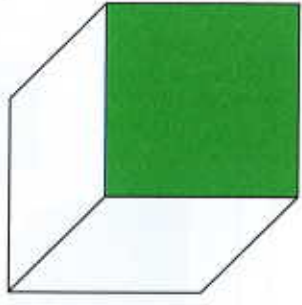
Colorie...



... les **sommets** que tu vois.



... les **faces** que tu vois.



... les **arêtes** que tu vois.

