



## Je m'interroge

Quelles sont les étapes de la vie d'une plante ?

Hypothèses : .....






## Je recherche

① **Dessine** la graine de haricot en distinguant la plantule (radicule, tigelle et feuille), l'enveloppe et le cotylédon.

**Colorie** sur chaque image ce qui s'est développé, puis **complète** les légendes.

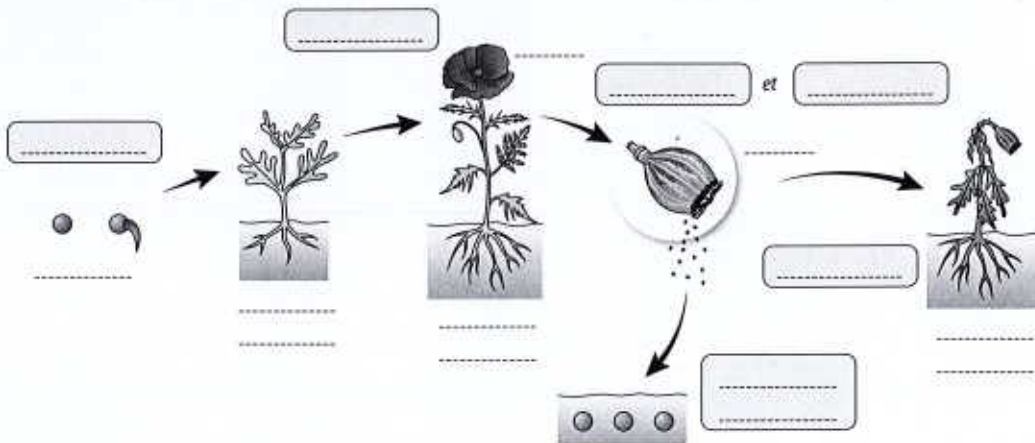
**Donne** un titre au document.

	 Développement des .....	 Développement des .....	 Développement de la .....
--	--	--	--

Titre : .....

② **Complète** le schéma du développement du coquelicot à l'aide de ces termes :

graine • plante morte • plante adulte • fruit • fleur • jeune plante et croissance • vieillissement • germination • floraison et fructification • dissémination des graines)



③ **Comment s'effectue** la croissance des arbres ?

.....  
 .....



## Je conclus

**Note** les mots clés correspondant à chacune des recherches.

1. ....  
 2. ....  
 3. ....