


### CALCUL MENTAL


Problème : faire compléter à 10.  
« Lou veut planter 10 rosiers ; elle en a planté 8.  
Combien de rosiers doit-elle encore planter ? »

### 1 Calcule.

MATÉRIEL  
CARTONNÉ



$$8 + 6 = \dots$$



$$9 + 5 = \dots$$

$6 + 5 = \dots$

$7 + 6 = \dots$

$9 + 7 = \dots$

$7 + 5 = \dots$

$7 + 8 = \dots$

$8 + 9 = \dots$

$8 + 5 = \dots$

$7 + 9 = \dots$

$9 + 6 = \dots$

### 2 Observe l'exemple et continue.

\*  $5 + 9 = 9 + 5 = 14$

$7 + 9 = 9 + 7 = \dots$

$6 + 9 = \dots + \dots = \dots$

$4 + 8 = 8 + 4 = \dots$

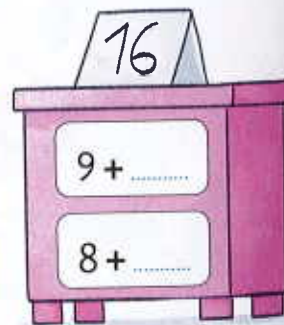
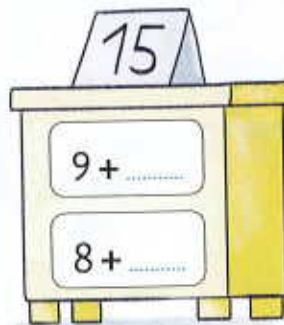

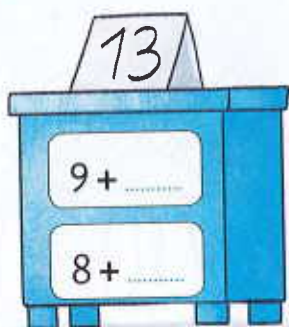
$5 + 8 = \dots + \dots = \dots$

$6 + 8 = \dots + \dots = \dots$

$5 + 9$   
c'est pareil  
que  $9 + 5$



### 3 Complète.



### 4

**PROBLÈME** Dans une salle, il y a 9 chaises. 14 enfants veulent s'asseoir.  
Combien de chaises manque-t-il ?



Il manque ..... chaises.