











Classer les différentes sources énergies en 2 catégories : ressource en énergie renouvelable et ressource en énergie non renouvelable

1. Un champ d'éoliennes	2. Un barrage hydro-électrique	3. l'eau
		
4. le bois	5. le pétrole	6. une centrale thermique
		
7. des puits de pétrole	8. Un champ de colza	9. le Soleil
		
10. une source chaude	11. une centrale nucléaire	12. Une centrale solaire
		
13. une mine d'uranium	14. une mine de charbon	15. des déchets
		

Energie RENEUVELABLE	Energie NON RENEUVELABLE
.....
.....
.....
.....

