




4 Reprends l'exercice 2, en prenant  comme unité d'aire.

Figure	1	2	3	4
Aire exprimée en u.a.	16	14	11	10

Que remarques-tu ?

Les aires mesurées en unité  sont le double des aires mesurées en unité .