

Exercice 1 :

Place les nombres décimaux sur la droite graduée :

$0,2 - 0,3 - 0,8 - 0,53 - 0,15$



Exercice 1 :

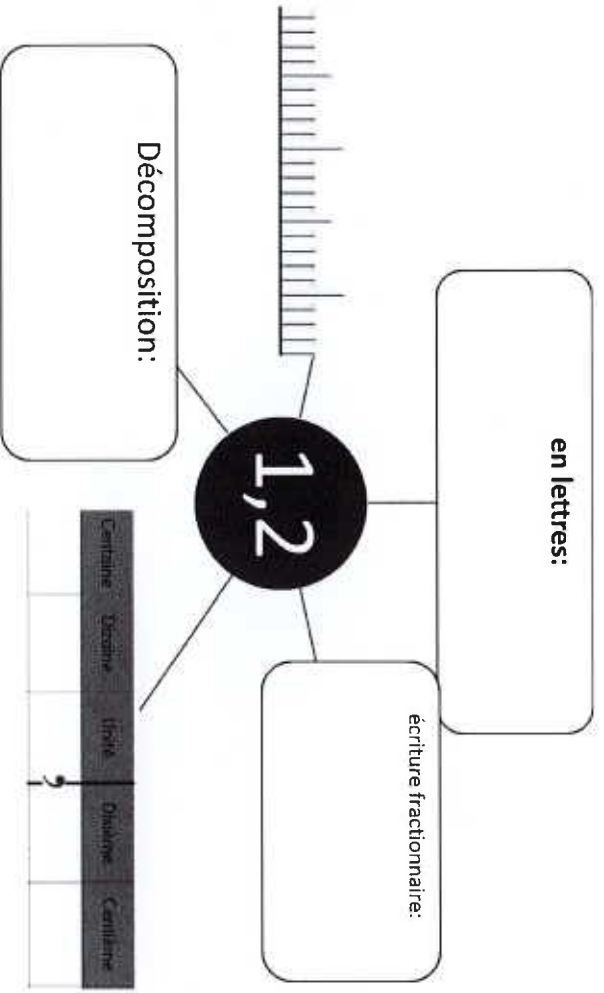
Place les nombres décimaux sur la droite graduée :

$0,2 - 0,3 - 0,8 - 0,53 - 0,15$



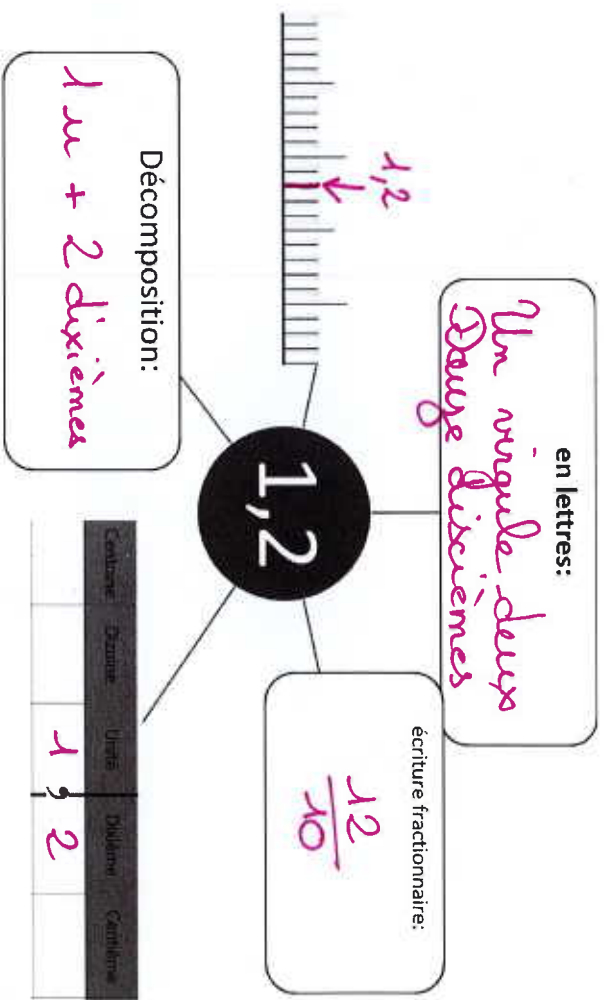
Exercice 2 :

Complète :



Exercice 2 :

Complète :



Exercice 1 :

Place les nombres décimaux sur la droite graduée :

$0,2 - 0,3 - 0,8 - 0,53 - 0,15$



Exercice 1 :

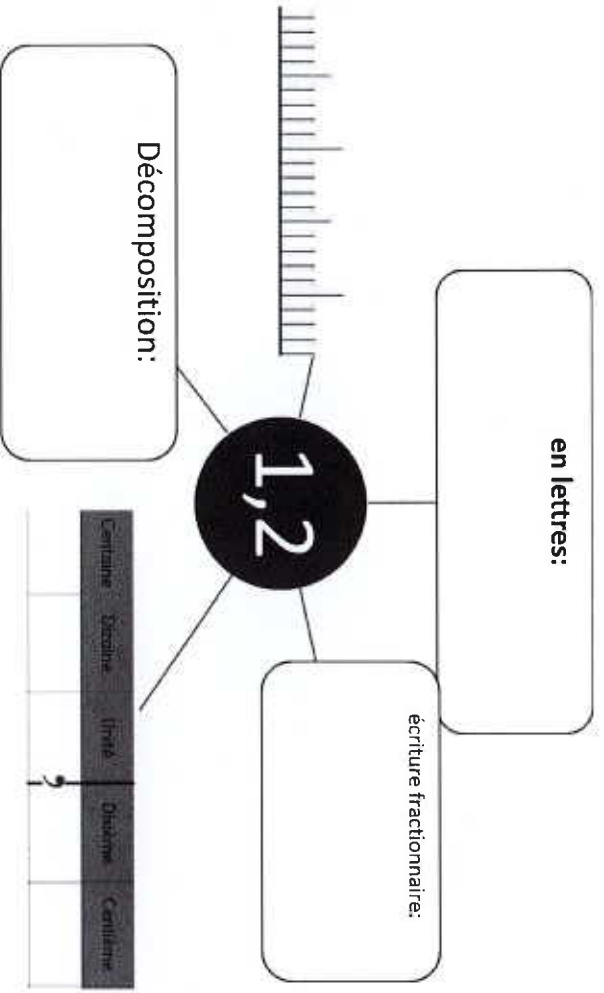
Place les nombres décimaux sur la droite graduée :

$0,2 - 0,3 - 0,8 - 0,53 - 0,15$



Exercice 2 :

Complète :



Exercice 2 :

Complète :

