



# Je fais le point (5)



**1** Colorie de la même couleur les écritures du même nombre.

quatre-vingt-douze

82

92

quatre-vingt-deux

**2** Complète le répertoire additif.

11	9 + .....	8 + .....
12	9 + .....	8 + .....
13	9 + .....	8 + .....
14	9 + .....	8 + .....

**3** Effectue ces additions. Barre le résultat en trop.

$$\begin{array}{r} 54 \\ + 23 \\ + 10 \\ \hline \end{array}$$

$$\begin{array}{r} 61 \\ + 15 \\ + 3 \\ \hline \end{array}$$

79

98

72


77

87

$$\begin{array}{r} 23 \\ + 20 \\ + 34 \\ \hline \end{array}$$

$$\begin{array}{r} 45 \\ + 12 \\ + 41 \\ \hline \end{array}$$

**4** Que vois-tu sur la table de droite de la 2<sup>e</sup> rangée ?



• Coche.


la trousse

la gomme

le cahier

le crayon

**5** Ces deux verres ont-ils la même contenance ?




Coche.

oui

non

**6** Écris le nombre de cubes et le nombre de pavés.



cubes

pavés droits