

Prénom : _____

Date : _____

EVALUATION PERIODE 5 : LA MULTIPLICATION



Compétence : Mémoriser les tables de multiplication par 2, 3, 4 et 5.

1) Ecris le résultat de ces multiplications :

$5 \times 6 = \dots\dots$

$8 \times 4 = \dots\dots$

$3 \times 7 = \dots\dots$

$8 \times 2 = \dots\dots$

$9 \times 5 = \dots\dots$

$10 \times 3 = \dots\dots$

$4 \times 6 = \dots\dots$

$5 \times 5 = \dots\dots$

$2 \times 6 = \dots\dots$

$3 \times 8 = \dots\dots$

$5 \times 10 = \dots\dots$

$3 \times 4 = \dots\dots$




Compétence : Connaître une technique opératoire de la multiplication et l'utiliser pour effectuer des multiplications par un nombre à un chiffre.

2) Pose et effectue ces multiplications posées :

$58 \times 5 =$

$93 \times 4 =$




$86 \times 3 =$



$149 \times 4 =$

$598 \times 3 =$

$437 \times 5 =$



Compétence : Résoudre des problèmes relevant de la multiplication.

- 3) Thomas a invité 26 copains à son anniversaire. Il veut donner 3 bonbons à chacun. Combien de bonbons doit-il acheter ?

Calcul :

Réponse :

- 4) Une école doit commander des manuels pour les élèves. Il faut acheter 125 manuels et chaque manuel coute 4 euros. Quelle somme l'école va-t-elle dépenser ?

Calcul :

Réponse :