




Complète le tableau

			six cent vingt
	$400 + 7$		
		342	
			sept cent un
	$500 + 20$		
			

Ordre

Range les nombres du plus petit au plus grand et écris-les, dans le tableau, en chiffres.

- huit cent deux

sept cent treize

quatre-vingt-dix-neuf

trois cents

six cent soixante-quinze

c	d	u

Comparaisons

Compare les nombres (=, >, <).

$352 \dots 532$

$421 \dots 214$

$895 \dots 598$

$708 \dots 807$

$658 \dots 865$

$109 \dots 901$

$515 \dots 515$

$906 \dots 609$

$698 \dots 869$

Égalités

Complète les égalités.

$20 + \dots + 300 = 326$

$3 + 700 + \dots = \dots 2.$

$\dots + 40 + \dots = 6.8$

$900 + \dots + 70 = \dots 1$

$\dots + 500 + 50 = \dots 9$

$\dots + 4 + 30 = 8..$

Affiche les nombres sur les compteurs.

