



Utiliser les chiffres romains en Histoire ?


Fiche
méthode



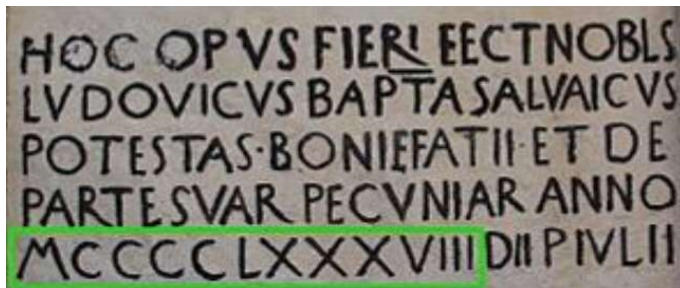
Observe et lis attentivement ces documents.



Doc.1 : logo des Jeux Olympiques d'été de 1960



Doc.2 : Extrait d'une bande dessinée d'Asterix



Doc.3 : Un nombre écrit en chiffres romains sur un document en latin du XV^{ème} siècle



Doc.4

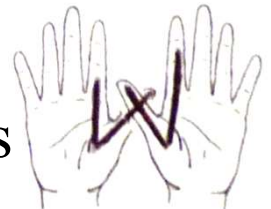
Les Romains ont inventé les signes suivants en utilisant leurs doigts et leurs mains.

I \Rightarrow 1 doigt



V \Rightarrow 5 = 1 main

X \Rightarrow 10 = 2 mains



Pour les nombres plus grands, ils ont inventé d'autres signes :

I	V	X	L	C	D	M
1	5	10	50	100	500	1000

Quand un symbole est placé **après** un symbole plus grand, on les additionne :

$$XV \Rightarrow 10 + 5 = 15$$

$$VI \Rightarrow 5 + 1 = 6$$

$$XIII \Rightarrow 10 + 3 = 13$$

Quand un symbole est placé avant un symbole plus grand, on le soustrait :

$$IX \Rightarrow 10 - 1 = 9$$

$$IV \Rightarrow 5 - 1 = 4$$

$$CM \Rightarrow 1000 - 100 = 900$$



Réponds aux questions.

1. Dans le doc.2, à quoi correspond ce score « LVII » ?

2. Ecris en chiffres

I	
III	
V	

XVII	
XII	
XXX	

IX	
XIX	
XXIX	

3. Ecris en chiffres romains

9	
12	
40	

14	
12	
26	

17	
19	
23	

4. Qui sont ces rois ?



Louis XI



Louis XIV



Louis XVI



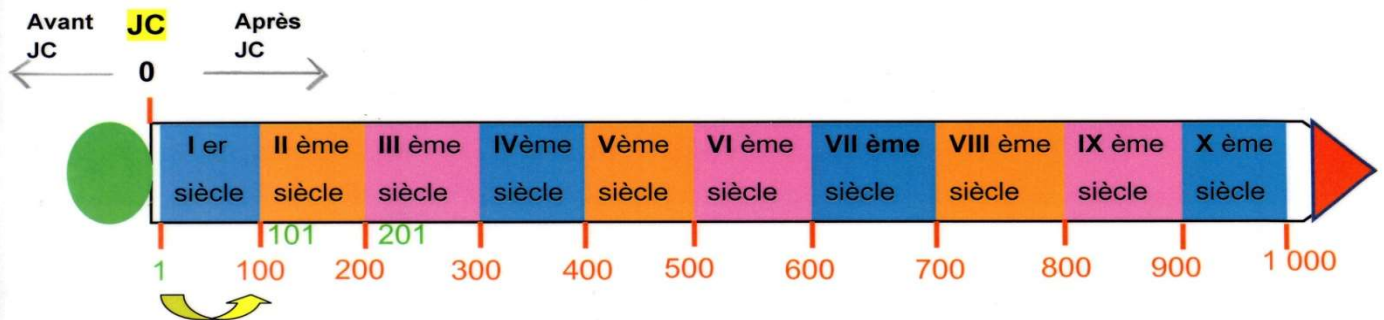
Charles VII



Observe ces deux documents puis complète le tableau.

1 siècle c'est 100 ans

10 siècles c'est 1 000 ans , c'est un millénaire



Pour trouver le siècle à partir d'une date, on prend le nombre de centaines et on ajoute 1

496 = 5 ^{ème} siècle = V ^e siècle	1620 = 17 ^{ème} siècle = XVII ^e siècle	1032 = 11 ^{ème} siècle = XI ^e siècle	806 = ^{ème} siècle = ^e siècle
1914 = ^{ème} siècle = ^e siècle	2020 = ^{ème} siècle = ^e siècle	1422 = ^{ème} siècle = ^e siècle	1515 = ^{ème} siècle = ^e siècle
496 = ^{ème} siècle = ^e siècle	1255 = ^{ème} siècle = ^e siècle	1492 = ^{ème} siècle = ^e siècle	1945 = ^{ème} siècle = ^e siècle
2008 = ^{ème} siècle = ^e siècle	2021 = ^{ème} siècle = ^e siècle	1789 = ^{ème} siècle = ^e siècle	1983 = ^{ème} siècle = ^e siècle