



Qu'est-ce que l'Histoire ?

Histoire

1

Comment écrit-on les dates en Histoire ?


fiche C



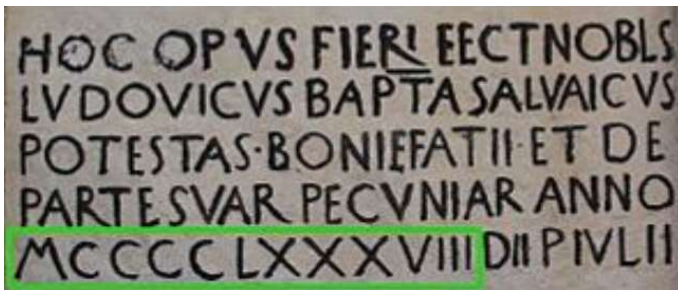
Observe et lis attentivement ces documents.




Doc.1 : logo des Jeux Olympiques d'été de 1960



Doc.2 : Extrait d'une bande dessinée d'Astérix






Doc.3 : Un nombre écrit en chiffres romains sur un document en latin du XV^{ème} siècle



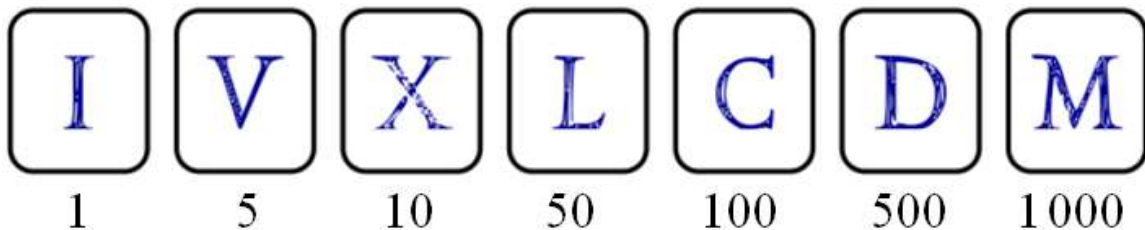
Doc.4

Les Romains ont inventé les signes suivants en utilisant leurs doigts et leurs mains.

I \Rightarrow 1 doigt 
V \Rightarrow 5 = 1 main 

X \Rightarrow 10 = 2 mains 

Pour les nombres plus grands, ils ont inventé d'autres signes :



Quand un symbole est placé **après** un symbole plus grand, on les **additionne** :

$$XV \Rightarrow 10 + 5 = 15$$

$$VI \Rightarrow 5 + 1 = 6$$

$$XIII \Rightarrow 10 + 3 = 13$$

Quand un symbole est placé **avant** un symbole plus grand, on le **soustrait** :

$$IX \Rightarrow 10 - 1 = 9$$

$$IV \Rightarrow 5 - 1 = 4$$

$$CM \Rightarrow 1000 - 100 = 900$$



Réponds aux questions.

- a) Dans le doc.2, à quoi correspond le score « LVII » ?
- b) Dans le doc.3, à quoi correspond le nombre encadré ?
- c) Ecris en chiffres

I	
III	
V	

XVII	
XII	
XXX	

IX	
XIX	
XXIX	

- d) Ecris en chiffres romains

9	
12	
40	

14	
12	
26	

17	
19	
23	

- e) Qui sont ces rois ?



Louis XI



Louis XIV



Louis XVI



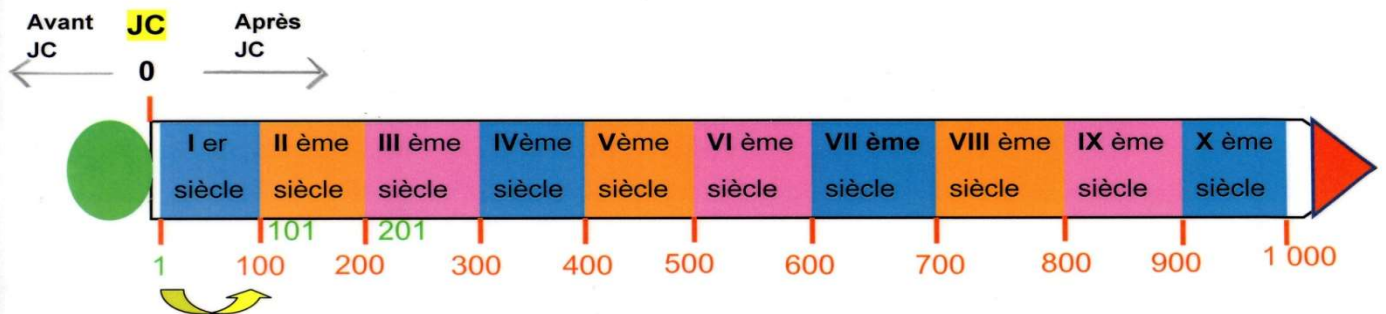
Charles VII



Observe ce document puis complète le tableau.

1 siècle c'est 100 ans

10 siècles c'est 1 000 ans , c'est un millénaire



Pour trouver le siècle à partir d'une date, on prend le nombre de centaines et on ajoute 1

496 = 5 ^{ème} siècle	1620 = 17 ^{ème} siècle	1032 = 11 ^{ème} siècle	806 = ^{ème} siècle
1914 = ^{ème} siècle	2020 = ^{ème} siècle	1422 = ^{ème} siècle	1515 = ^{ème} siècle
496 = ^{ème} siècle	1255 = ^{ème} siècle	1492 = ^{ème} siècle	1945 = ^{ème} siècle
2008 = ^{ème} siècle	145 = ^{ème} siècle	1789 = ^{ème} siècle	1901 = ^{ème} siècle