
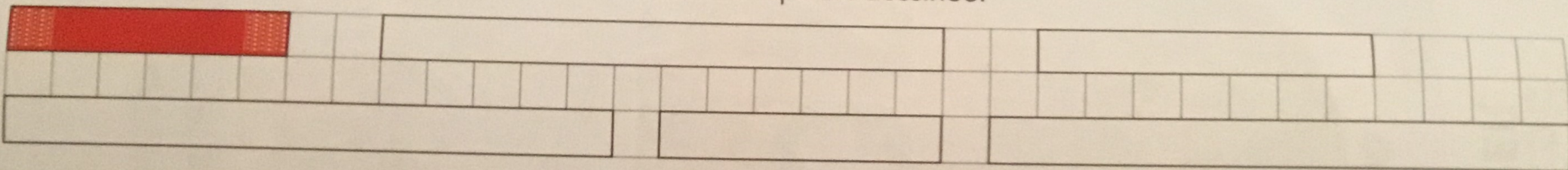




Je travaille seul(e)

4  Colorie les écharpes qui mesurent le double de celle qui est dessinée.




5  Trace un segment bleu qui mesure le double du segment rouge.



Utilise une bande de papier.




6  Trace les segments suivants : le segment de Pic mesure le double de celui de Flip ; le segment de Pilou mesure le double de celui de Pic.





$$\boxed{\dots} \text{ cm} + \boxed{\dots} \text{ cm} = \boxed{\dots} \text{ cm} \quad | \dots$$

$$\boxed{\dots} \text{ cm} + \boxed{\dots} \text{ cm} = \boxed{\dots} \text{ cm} \quad | \dots$$



Je révise

 Colorie le papillon le plus éloigné du point jaune de la fleur.  Colorie la fourmi la plus proche de la fleur.

