


Evaluation de mathématiques



Compte les gâteaux en réalisant des **groupements par 10**.



d	u
.....

Il y a gâteaux.

Écris les nombres **en chiffres ou en lettres**.

quatre-vingt-douze

53

soixante-trois

44

quatre-vingt-un

36

soixante-quatorze

27



Écris en chiffres chaque nombre représenté.

.....	$10 + 10 + 10 + 10 + 10 + 3$
.....	$80 + 16$
.....	7d 5u
.....	90u

.....	$10 + 10 + 10 + 2 + 10 + 10 + 10 + 10$
.....	$60 + 13$
.....	4u 3d
.....	$20 + 20 + 20 + 20 + 1$

Encadre avec les nombres qui viennent juste avant et juste après.

.....	66
-------	----	-------

.....	80
-------	----	-------

.....	49
-------	----	-------

.....	99
-------	----	-------



Complète avec le symbole =, < ou >.

76 29

34 50

68 86

84 90

$32 + 6$ 38

$29 + 8$ $8 + 24$

$1 + 67 + 9$ $60 + 13$



Colorie les représentations égales à 100.

mille

$99 + 1$

$10 + 10 + 10 + 10 + 10 + 10 + 10 + 10 + 10 + 10$


cent

100 centaines

100 unités

10 dizaines

$50 + 50$

 **Calcule** les soustractions.

$67 - 4 = \dots\dots\dots$



$43 - 8 = \dots\dots\dots$

$79 - 40 = \dots\dots\dots$

$50 - 6 = \dots\dots\dots$

$60 - 30 = \dots\dots\dots$

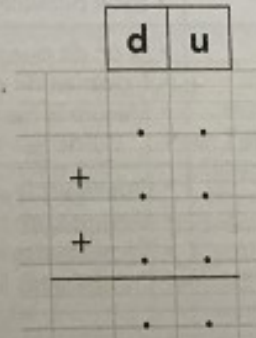
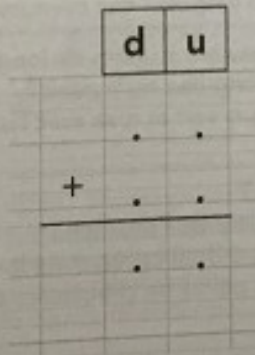
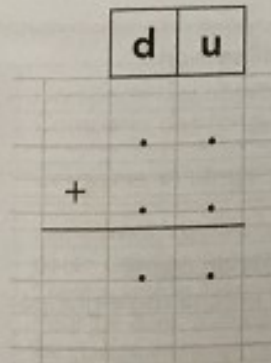
$48 - 21 = \dots\dots\dots$


 **Pose et**  **calcule** les additions.


$64 + 23 = \dots\dots\dots$

$28 + 45 = \dots\dots\dots$

$4 + 59 + 36 = \dots\dots\dots$



 **Relie** les 4 points alignés.



 **Colorie** pour obtenir 5 jetons alignés avec ceux déjà placés.

