 **Coche** les phrases correctes.



- Le citron **est plus lourd** que la pomme.
- Le citron **est aussi lourd** que la pomme.
- La pomme **a la même masse** que le citron.




- Le raisin **est plus léger** que le poulet.
- Le poulet **est plus lourd** que le raisin.
- Le poulet **est plus léger** que le raisin.

L'heure

 **Écris** l'heure.




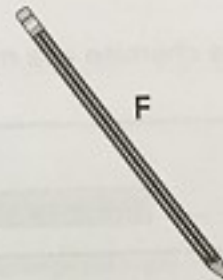





 **Dessine** les aiguilles qui manquent pour indiquer l'heure des réveils.









Les longueurs


 **Mesure et range** les crayons du plus court au plus long.




 **Coche** la bonne mesure.

	<input type="checkbox"/> 1 cm <input type="checkbox"/> 1 m		<input type="checkbox"/> 20 cm <input type="checkbox"/> 20 m		<input type="checkbox"/> 2 cm <input type="checkbox"/> 2 m
	<input type="checkbox"/> 30 cm <input type="checkbox"/> 30 m		<input type="checkbox"/> 15 cm <input type="checkbox"/> 15 m		<input type="checkbox"/> 2 cm <input type="checkbox"/> 2 m

La résolution de problèmes


Ce matin, le berger n'a plus que **23 moutons**. Hier, il en avait **29**.
Combien de moutons le loup a-t-il mangés ?  **Complète.**

moutons



moutons

Calcul : Le loup a mangé moutons.

Résous le problème suivant.
Pilou a **12 balles**. Il les répartit équitablement dans **4 sacs**.
Combien y aura-t-il de balles dans chaque sac ?  **Complète.**

Il y aura balles dans chaque sac.