






# Que dit la météo ?

Mathématiques

|          |  |  |  |  |  |
|----------|---|---|--|---|---|
| lundi    |   |   |  | +   |   |
| mardi    |   | +   |  |   |   |
| mercredi | +   |   |  |   | +   |
| jeudi    |   |   | +  |   |   |
| vendredi |   |   |  | +   |   |
| samedi   |   |   |  | +   | +   |
| dimanche | +   |   |  |   |   |



**Combien** y a-t-il de jours de soleil ? de vent ? de pluie ?

|        |  |
|--------|--|
| soleil |  |
|--------|--|

|      |  |
|------|--|
| vent |  |
|------|--|

|       |  |
|-------|--|
| pluie |  |
|-------|--|



**Quel jour** y a-t-il à la fois du soleil et du vent ? \_\_\_\_\_



**Dessine** dans chaque case le symbole du temps qu'il fait au cours de la semaine.

| Lundi | Lundi | Mercredi | Jeudi | Vendredi | Samedi | Dimanche |
|-------|-------|----------|-------|----------|--------|----------|
|       |       |          |       |          |        |          |

**Objectif** • Comprendre un tableau à double entrée.

**Conseil** • Noter que les symboles du temps sont les informations générales du tableau. Sur chaque ligne, l'occurrence du temps est notée par une croix ou deux.