



Calcul



Addition de deux nombres en ligne. Somme ≤ 5

0 1 2 3 4 5 6 7 8 9



Compléter les écritures additives.



$$\boxed{\dots} + \boxed{\dots} = \boxed{\dots}$$



$$\boxed{\dots} + \boxed{\dots} = \boxed{\dots}$$



$$\boxed{\dots} + \boxed{\dots} = \boxed{\dots}$$



$$\boxed{\dots} + \boxed{\dots} = \boxed{\dots}$$



$$\boxed{\dots} + \boxed{\dots} = \boxed{\dots}$$



$$\boxed{\dots} + \boxed{\dots} = \boxed{\dots}$$



$$\boxed{\dots} + \boxed{\dots} = \boxed{\dots}$$

$$\boxed{\dots} + \boxed{\dots} = \boxed{\dots}$$

$$\boxed{\dots} + \boxed{\dots} = \boxed{\dots}$$

$$\boxed{\dots} + \boxed{\dots} = \boxed{\dots}$$