

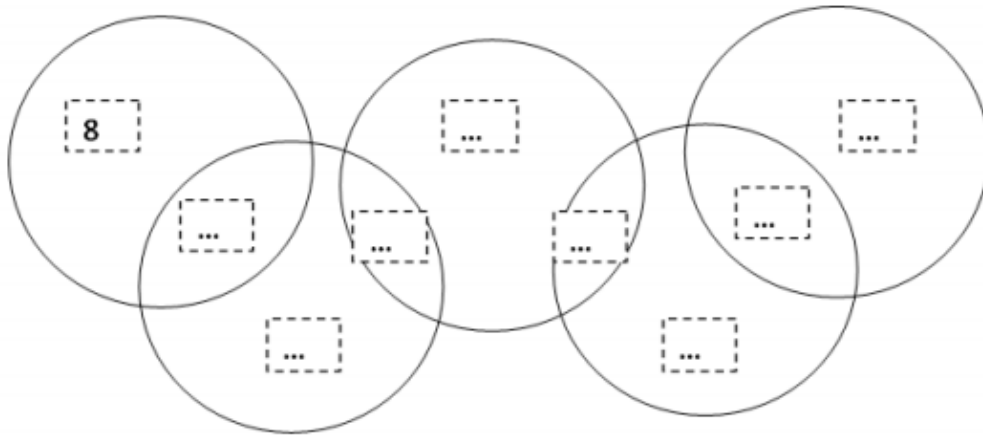
Défis maths

CE2

1. Les anneaux olympiques de PyeongChang

sur 10 points

Place les nombres de 1 à 9 dans les cases pour que les sommes des nombres dans chacun des anneaux soient égales à 11.

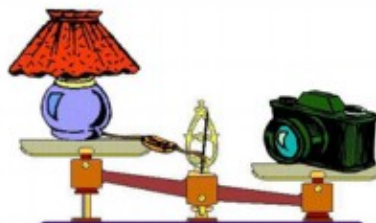
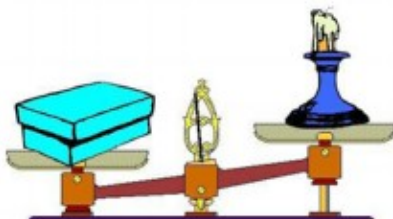

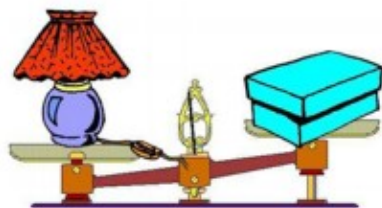


2. Léger comme une plume !

sur 10 points

Les enfants ont pesé des objets avec une balance à plateaux : une lampe, une boîte, un ananas, un appareil-photo, un bougeoir.

Ils ont pris des photos de leurs expériences.

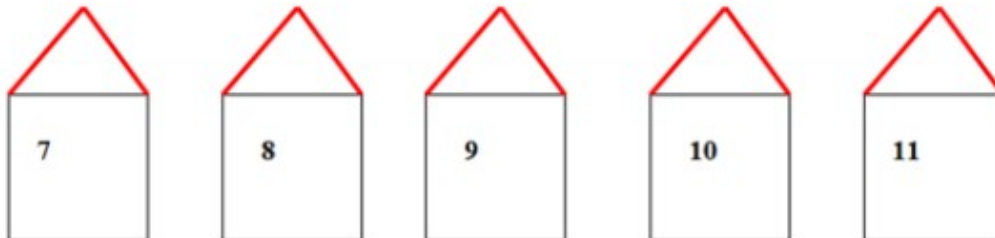


Range les objets du plus léger au plus lourd.

3. La couleur des maisons

sur 10 points

Il y a cinq maisons dans la rue des couleurs : une bleue, une rouge, une jaune, une orange et une verte :



la bleue et la jaune portent un numéro pair,

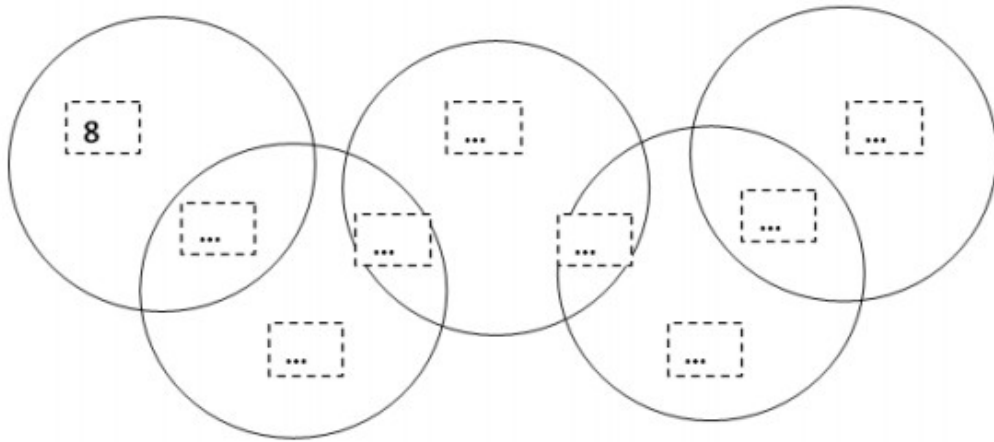
la maison rouge est voisine de la bleue mais pas de la jaune,

la maison bleue est voisine de la verte et de la rouge.

De quelle couleur est la maison numéro 9?

Fiche réponse

1. Les anneaux olympiques (10 points)



2. Léger comme une plume! (10 points)

Du plus léger au plus lourd.

..... ; ; ; ;

3. La couleur des maisons (10 points)

La maison numéro 9 est de couleur