

# ÉVALUATION ②


Prénom .....

Date .....

## RECONNAÎTRE ET NOMMER DES SOLIDES

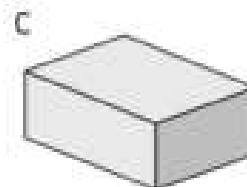

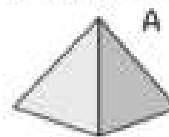
Compétences travaillées	Exercices	NA	PA	A	D
Reconnaitre et nommer des solides usuels,	1				
Décrire et comparer des solides en utilisant le vocabulaire approprié.	2				
Approcher la notion de patron.	3				

Écris le nom de chaque solide.


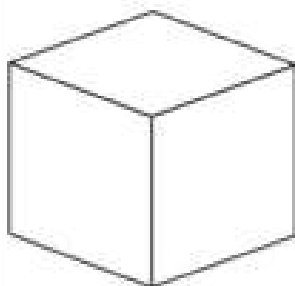


Complète ce tableau et donne toutes les propriétés des trois solides proposés.

	A	B	C
.....			
.....			
.....			



En observant ce cube, dessine deux patrons différents sur le quadrillage.



(pour le dernier exercice vous pouvez prendre un autre quadrillage si celui là est trop petit)