

Nombres et quantités : de 0 à 79



1 Complète le tableau:

nombre avant	nombre	nombre après
	75	
68		
		71
77		

2 Complète avec $<$, $>$ ou $=$:

3  15

65

.....

55

42

.....

62

16

.....

61

70

.....

7

67

.....

77

78

.....

75

61

.....

61

44

.....

66

3 Relie les nombres à leur place sur la droite graduée

38

52

68

75

79

40


50

60

70

80

4 Complète la bande numérique:




Nombres et quantités : de 0 à 79



1 Ecris les nombres manquants:

63 66

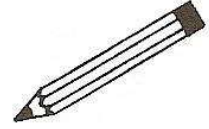


69 72



..... 66

57



65

..... 75

.....
.....
.....
69 79

.....
.....
.....
.....

2 Compte en groupant par 10:

