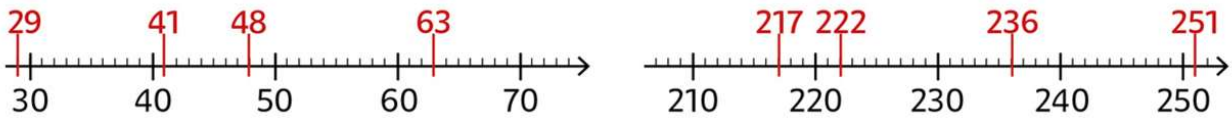


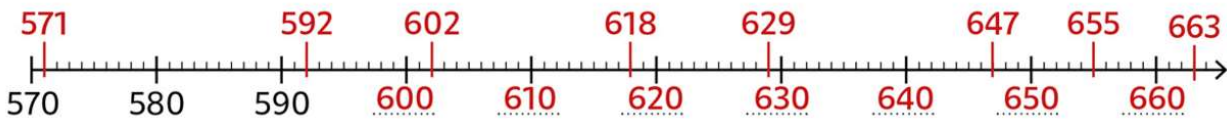
② Place les nombres sur les droites graduées.

63 48 236 41 217 251 29 222

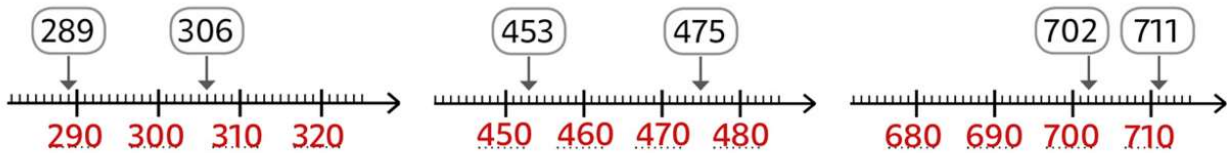


② Complète la droite graduée puis place les nombres suivants.

647 592 602 571 663 618 655 629



⑤ Écris les graduations de ces droites graduées en observant les nombres placés.



### DÉFI

⑦ Colorie selon le code.

