

# JE ME TESTE ①

Prénom .....

Date .....

## CONNAITRE LES UNITÉS DE DURÉES ET LEURS ÉQUIVALENCES

1 Colorie de la même couleur l'événement et l'unité qui convient pour en mesurer la durée.

Une croisière dans les îles.

Une feuille qui tombe de l'arbre.

seconde

minute

Le journal télévisé du soir.


La marée dans l'océan Atlantique.

heure

jour

## LIRE L'HEURE


2 Entoure l'horloge qui indique l'heure.



3 Place les aiguilles sur ces horloges.



N'oublie pas que la petite aiguille indique les heures et la grande les minutes.



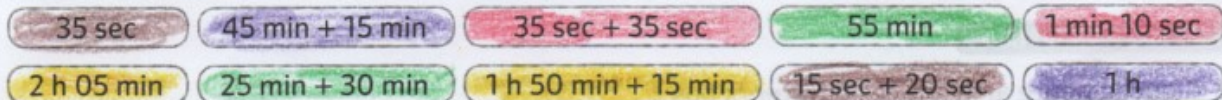
## CONVERTIR LES UNITÉS DE DURÉES

4 Coche la bonne réponse.

- 2 min sont équivalentes à :  120 min  120 s  200 s
- 3 h et 25 minutes sont équivalentes à :  325 min  253 min  205 min
- 600 s sont équivalentes à :  10 min  60 min  6 min
- 90 min sont équivalentes à :  9 min  1 min 30 s  1 h 30 min

## CALCULER AVEC DES DURÉES

5 Colorie d'une même couleur les durées égales.



## DÉTERMINER UN INSTANT

6 À quelle heure se terminent ces trois émissions ?

<b>TF1</b> Programme TF1		<b>20:50</b> Les experts À la carte Série-TV (45 min)
<b>france 2</b> Programme France 2		<b>21:05</b> Je vous trouve très beau Cinéma (1h45)
<b>france 3</b> Programme France 3		<b>21:00</b> Inspecteur Barnaby Macabres découvertes Divertissement (1h35)

Experts  $20h50min + 45min = 20h95min = 21h35min$   
 Je vous trouve...  $21h05min + 1h45min = 22h50min$   
 Barnaby  $21h00min + 1h35min = 22h35min$

Pour additionner des durées, on additionne les mêmes mesures (heures, min avec min) puis on fait les conversions.