




## RECONNAITRE DES TRIANGLES

① Colorie les figures qui sont des triangles.



## IDENTIFIER LES PROPRIÉTÉS D'UN TRIANGLE PARTICULIER

② Observe ces triangles et coche leurs propriétés dans le tableau.

Deux côtés égaux		X		X
Trois côtés égaux	X			
Un angle droit			X	X


## NOMMER DES TRIANGLES PARTICULIERS

③ Écris le nom de ces triangles en utilisant les mots suivants : rectangle – quelconque – isocèle – équilatéral.



triangle

*équilatéral*



triangle

*rectangle*



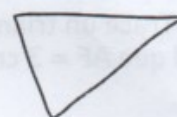
triangle

*isocèle*



triangle

*isocèle rectangle*



triangle

*quelconque*

## CONSTRUIRE DES TRIANGLES

④ Utilise les points suivants pour tracer cinq triangles qui ne se croisent pas.

*(Ils peuvent se toucher, sinon il n'y a pas de solution).*

