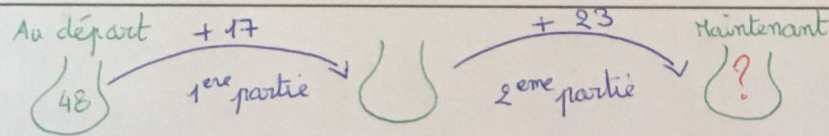



A) Nicolas est arrivé à l'école avec 48 billes et a joué deux parties. A la première, il a gagné 17 billes, à la seconde, il a gagné 23 billes. Combien Nicolas a-t-il de billes maintenant ?



calcul : $48 + 17 + 23 = 88$ (je pose mon opération)

réponse : Nicolas a maintenant 88 billes.

E) Françoise joue au jeu de l'oie. Son pion est sur la case 25. Elle tire deux cartes, la première est « avancer de 27 », la deuxième est « avancer de 23 ». Quelle est la case d'arrivée ?



opération : $25 + 27 + 23 = 75$

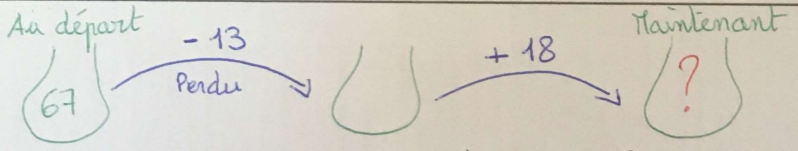
La case d'arrivée est 75.



(correction des autres problèmes sur la deuxième page)

07 94 52 32 07 94 52 33 Fax 04 67 94 52 90
mediacollec@editionsdtd.com
10 00012 49 201 1 17 rue de la République 19 8 42315 810
DE VENTE ALIÉNO

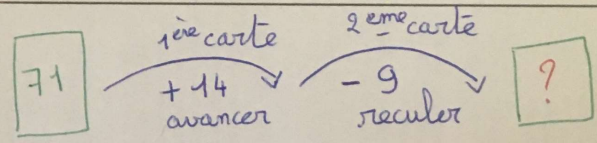
E) Cécile est arrivée à l'école avec 67 billes et a joué deux parties. A la première, elle a perdu 13 billes, à la seconde, elle a gagné 18 billes. Combien Cécile a-t-elle de billes maintenant ?



calcul : $67 - 13 = 54$ et $54 + 18 = 72$

réponse : Cécile a maintenant 72 billes.

F) Jean joue au jeu de l'oie. Son pion est sur la case 71. Il tire deux cartes, la première est « avancer de 14 », la deuxième est « reculer de 9 ». Quelle est la case d'arrivée ?



calcul : $71 + 14 - 9 = 76$
85

réponse : La case d'arrivée est 76.