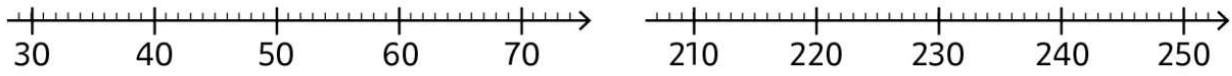


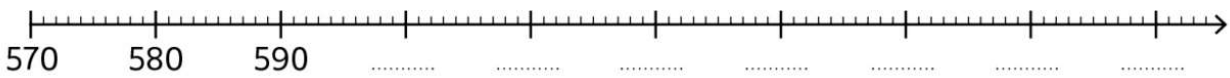
② **Place** les nombres sur les droites graduées.

63 48 236 41 217 251 29 222

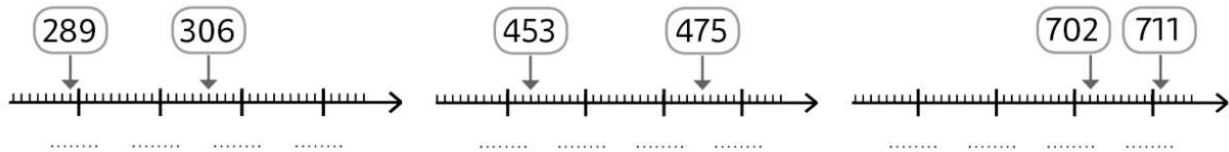


② **Complète** la droite graduée puis **place** les nombres suivants.

647 592 602 571 663 618 655 629



⑤ **Écris** les graduations de ces droites graduées en observant les nombres placés.



DÉFI

⑦ **Colorie** selon le code.

