

Prénom : _____ Date: _____

1 Complète avec <, > ou = :

2 000 mille - deux 1 700 ... cent- dix- sept

8 283 mille - huit - cent 3 033 ... trois - mille - trente - trois

6 360 ... six- mille - quatre - cent 6 605 ... mille - soixante - cinq

3 15




2 Complète les abaques :

M	C	D	U	M	C	D	U	M	C	D	U
7	8	5	9	9	0	0	6	7	0	2	8
7 859	9 006	7 028	2 001								

3 Complète le tableau :

6 237	6 000 + 200 + 30 + 7	6m + 2c + 3d + 7u
1 875		
4 444		
7 092		

4 Complète :




7 835 7 834 7 833

9 908 9 918 9 928

1 Colorie la barre qui représente le plus petit nombre :

8 000 + 40 + 5	7 000 + 600 + 40 + 8	9 000 + 200 + 9
8 000 + 400 + 5	7 000 + 600 + 80 + 4	9 000 + 20 + 9
1000 + 9 + 70	2 000 + 20 + 600 + 3	700 + 8 000 + 6
1000 + 90 + 5	2 000 + 20 + 400 + 5	7 000 + 800 + 6

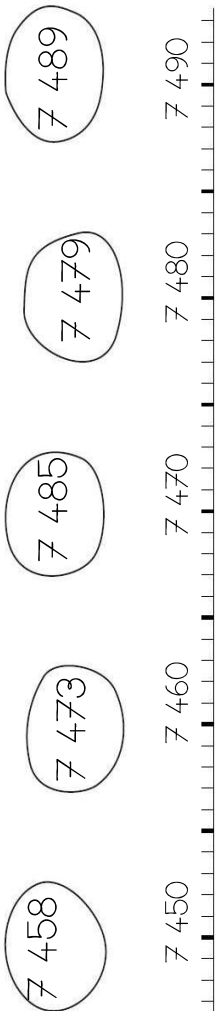
2 Entoure les pièces et billets qu'il faut choisir pour avoir 2 335€ :



Pour avoir 2 335€, il faut :

- ... billets de 500€
- ... billets de 100€
- ... billets de 10€
- ... pièces de 1€

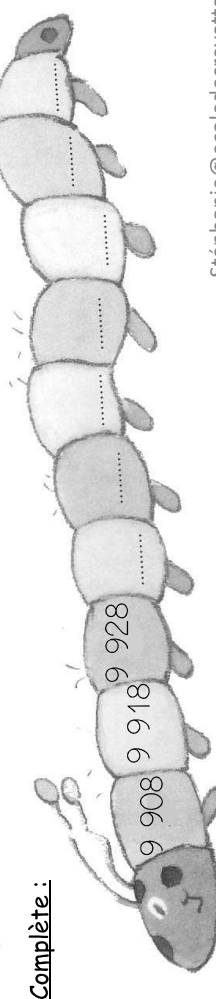
3 Re lie les nombres à leur place sur la droite graduée :



7 458 7 473 7 485 7 479 7 489

7 450 7 460 7 470 7 480 7 490

4 Complète :



Stéphanie@ecoledecouverte