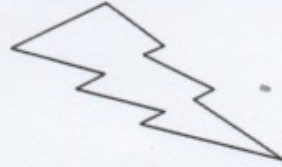




# JE ME TESTE ①

Prénom .....  
Date .....

## SAVOIR DÉFINIR LA NOTION DE PÉRIMÈTRE

1 Repasse en bleu le contour de ces figures. Cette mesure s'appelle : .....



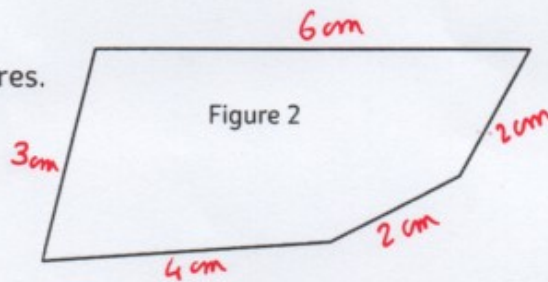
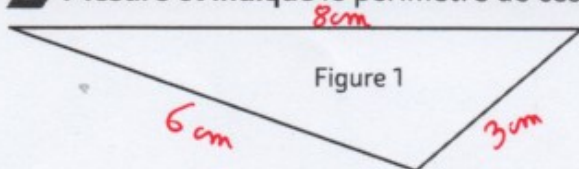
## TROUVER LA VALEUR DES PÉRIMÈTRES

2 Trouve le périmètre de ces figures dans les différentes unités de longueurs.

Figures			
Unités de longueur (u)			1 cm
Périmètres	.....	.....	.....

## MESURER DES PÉRIMÈTRES

3 Mesure et indique le périmètre de ces figures.



Périmètre = .....

Périmètre = .....

## TRACER DES POLYGONES EN FONCTION DE LEUR PÉRIMÈTRE

4 Construis les polygones correspondant aux périmètres demandés.

P (figure A) = 30 u

P (figure B) = 46 u

