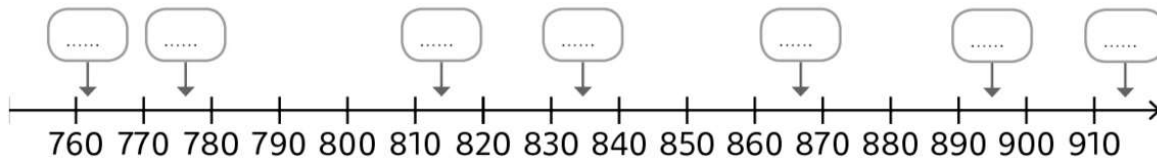
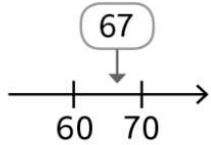


1 Place les nombres suivants dans les étiquettes sur cette droite graduée.

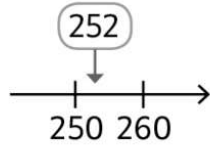
835 868 761 914 777 896 813



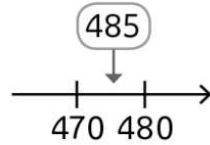
3 Les nombres sont-ils bien placés sur la droite graduée ? **Coche** vrai ou faux.



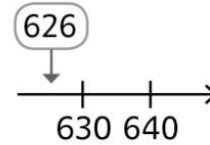
vrai faux



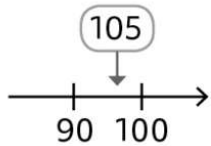
vrai faux



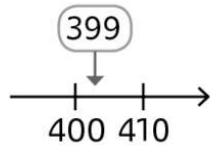
vrai faux



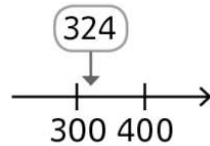
vrai faux



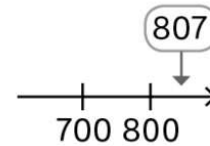
vrai faux



vrai faux



vrai faux



vrai faux

4 Écris les nombres indiqués par une flèche.

