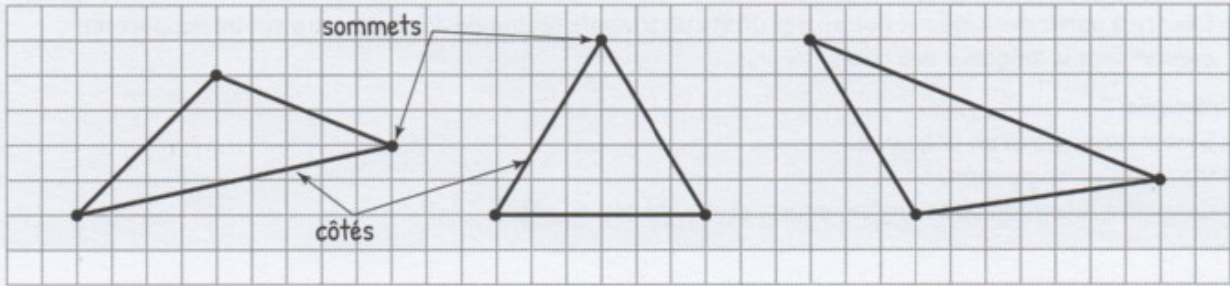


# LEÇON

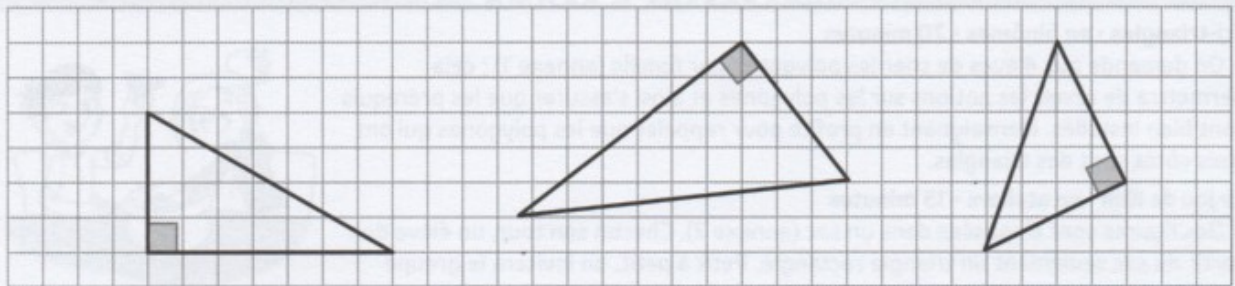
## Identifier et tracer un triangle

► Un triangle est un polygone qui a 3 côtés et 3 sommets.



► Quand le triangle possède un angle droit, il s'appelle le triangle rectangle.


Voici des exemples :



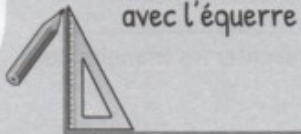
## CARTE MENTALE

### Tracer un triangle rectangle

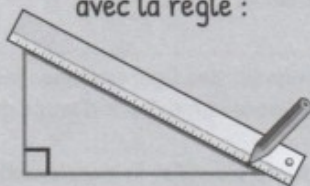
Je trace le premier côté :



Je trace le deuxième côté avec l'équerre :



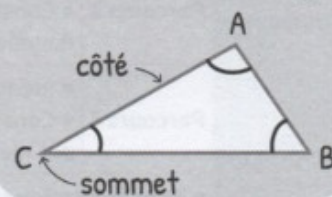
Je relie les deux premiers côtés avec la règle :



IDENTIFIER ET TRACER DES TRIANGLES

### Définition

• Triangle : 3 côtés, 3 sommets, 3 angles.



### Le triangle rectangle

