

## Exercices LUNDI

www.tutinbazar.fr

Objectif : Je sais lire les heures justes et les demi-heures.

1. Écris les heures indiquées sur ces horloges.



Il est ..... h ..... min.



Il est ..... h ..... min.



Il est ..... h ..... min.



Il est ..... h ..... min.



Il est .....



Il est .....



Il est .....



Il est .....

2. Place les aiguilles selon les heures indiquées.




Il est 2 h 00 min.



Il est 12 h 00 min.



Il est 5 h 30 min.



Il est 7 h 00 min.



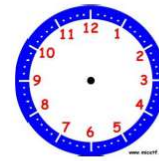
Il est 10 h 30 min.



Il est 6 h et demie.



Il est 11 h 00 min.



Il est 1 h et demie.

## Exercices MARDI

$$\begin{array}{r} \text{m} \text{ c} \text{ d} \text{ u} \\ 22 \\ \times 16 \\ \hline + \quad . \quad . \quad . \\ \hline = \end{array}$$

$$\begin{array}{r} \text{m} \text{ c} \text{ d} \text{ u} \\ 55 \\ \times 33 \\ \hline + \quad . \quad . \quad . \\ \hline = \end{array}$$

$$\begin{array}{r} \text{m} \text{ c} \text{ d} \text{ u} \\ 49 \\ \times 37 \\ \hline + \quad . \quad . \quad . \\ \hline = \end{array}$$

$$\begin{array}{r} \text{m} \text{ c} \text{ d} \text{ u} \\ 37 \\ \times 19 \\ \hline + \quad . \quad . \quad . \\ \hline = \end{array}$$

$$\begin{array}{r} \text{m} \text{ c} \text{ d} \text{ u} \\ 26 \\ \times 42 \\ \hline + \quad . \quad . \quad . \\ \hline = \end{array}$$

$$\begin{array}{r} \text{m} \text{ c} \text{ d} \text{ u} \\ 51 \\ \times 33 \\ \hline + \quad . \quad . \quad . \\ \hline = \end{array}$$

$$\begin{array}{r} \text{m} \text{ c} \text{ d} \text{ u} \\ 14 \\ \times 33 \\ \hline + \quad . \quad . \quad . \\ \hline = \end{array}$$

$$\begin{array}{r} \text{m} \text{ c} \text{ d} \text{ u} \\ 26 \\ \times 58 \\ \hline + \quad . \quad . \quad . \\ \hline = \end{array}$$


$$\begin{array}{r} \text{m} \text{ c} \text{ d} \text{ u} \\ 31 \\ \times 54 \\ \hline + \quad . \quad . \quad . \\ \hline = \end{array}$$

## Leçon pour JEUDI

Mes... Lire l'heure


Sur cette horloge, on peut voir 2 aiguilles :


- La **petite** : elle indique les heures.
- La **grande** : elle indique les minutes.



Il faut 60 minutes pour faire **une heure**. Quand la grande aiguille fait un tour de cadran, la petite aiguille avance d'une heure.


- un quart d'heure = 15 minutes
- une demi-heure = 30 minutes
- une heure = 60 minutes






La grande aiguille est sur le 12.

**9 h 00**  
Il est neuf heures.



La grande aiguille est sur le 3.

**11 h 15**  
Il est onze heures et quart.



La grande aiguille est sur le 6.

**10 h 30**  
Il est dix heures et demie.

 L'aiguille des heures avance très lentement, mais elle avance !





Il est 10 h 00 min.  
**(10 h pile)**  
La petite aiguille est exactement sur le 10.



Il est 10 h 15 min.  
**(10 h et quart)**  
La petite aiguille n'est plus sur le 10, elle a un peu avancé.



Il est 10 h 30 min.  
**(10 h et demie)**  
La petite aiguille est à mi-chemin entre le 10 et le 11.

Les nombres écrits sur le cadran indiquent les heures.

Pour donner l'heure de l'après-midi, j'ajoute 12.

+ 12	
Le matin, je dis :	L'après-midi, je dis :
1 h	13 h
2 h	14 h
...	...
11 h	23 h
Midi (12 h)	Minuit ( <del>24 h</del> → 00 h)




Matin : 2 h 00 min.  
Après-midi : 14 h 00 min.

## Exercices pour JEUDI

Barre les horaires qui ne correspondent pas à l'horloge.


**1**

matin




6 heures 10h30 12h00  
10h00 10 heures 9h00

après-midi




3 heures 2 heures 15 heures  
14h00 14 heures midi

soir




19 heures 30 7h30 18 heures  
6h30 7 heures 19h30

matin





10h30 6 heures 18 heures  
6h00 11 heures et demie 11h30

2 Complète avec les mots: matin, après-midi, soir.



Matin



3 Écris l'heure sur les cadrans.



matin

7:00



après-midi

:



matin

:



soir


:



matin

:


4 Dessine les aiguilles.



9h00



11h30




17h30



19h00

5 Complète.




matin

Il est .....




après-midi

Il est .....



après-midi

Il est .....



matin

Il est .....