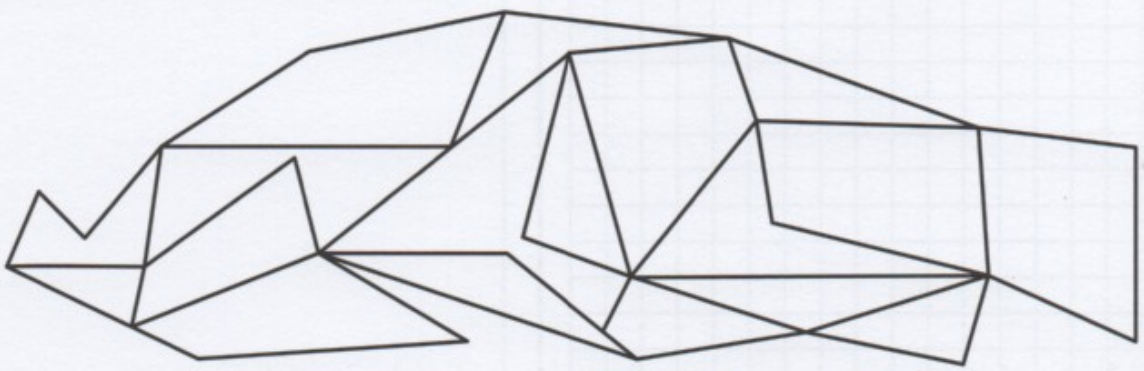




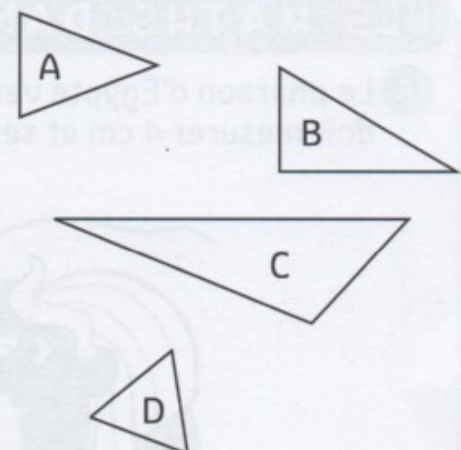
IDENTIFIER DES TRIANGLES

① Colorie seulement les triangles.



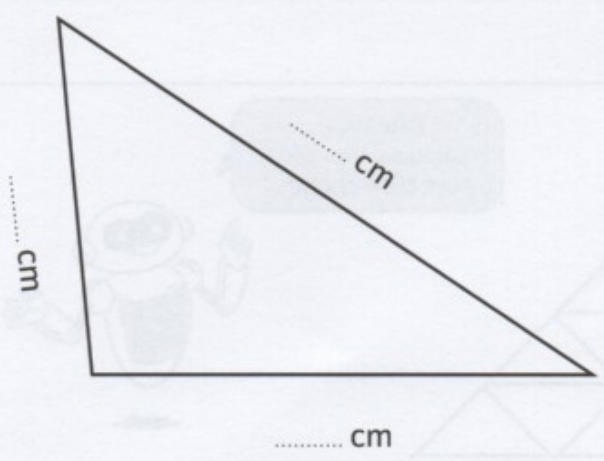
② Écris le nom des triangles qui correspondent à la description.

Descriptions	Triangles
Je possède trois côtés égaux.	
Je suis un triangle rectangle.	
Mon côté le plus long mesure 5 cm.	
Je possède deux côtés égaux.	




TRACER DES TRIANGLES


③ Mesure ce triangle et reproduis-le à côté.



- ④ Trace un triangle rectangle ABC dont les côtés de l'angle mesurent 6 cm et 5 cm.



- ⑤ Trace un triangle rectangle DEF dont les côtés de l'angle mesurent 4 cm et 5 cm.



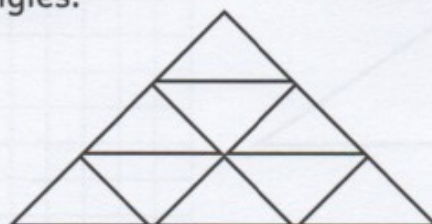
## LES MATHS DANS LA VIE

- ⑥ Le pharaon d'Égypte veut construire une pyramide très précise : sa base doit mesurer 4 cm et ses côtés 3 cm exactement ! Dessine cette pyramide.



## DÉFI

- ⑦ Compte les triangles de cette figure.  
Il y a ..... triangles.



Attention, certains triangles sont bien cachés !

