











Combien y-a-t-il de poissons dans chaque ligne?

Découpe les nombres et colle celui qui convient en face de chaque ligne.

LA BANDE NUMERIQUE POUR T'AJDER A RETROUVER COMMENT S'ECRIT LE NOMBRE QUE TU AS TROUVÉ :

1	2	3	4	5	6	7	8	9	10
---	---	---	---	---	---	---	---	---	----



7	7	9	10	6	9	6	8	8	10
---	---	---	----	---	---	---	---	---	----