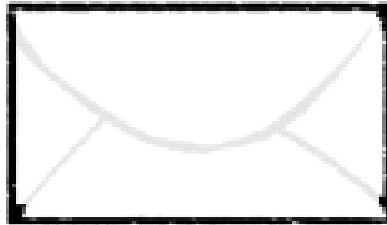



1




Léna a un paquet de 12 images. Elle met autant d'images dans chacune des 2 enveloppes.

♥ Combien d'images y aura-t-il par enveloppe ?

♦

+ Il y aura ___ images

2



Il faut 12 billes dans le sac. Mathys a déjà mis 4 billes.

♥ Combien en manque-t-il ?

♦

+ Il manque ___ billes

3



Maman distribue 12 gâteaux à ses 3 enfants.

♥ Combien vont-ils avoir de gâteaux chacun ?

♦

+ Chaque enfant aura ___ gâteaux