



# Comparer des contenances



mars      avril      mai



lundi      mardi      mercredi      jeudi      vendredi      samedi      dimanche

- 1
- 2
- 3
- 4
- 5
- 6
- 7
- 8
- 9
- 10
- 11
- 12
- 13
- 14
- 15
- 16
- 17
- 18
- 19
- 20
- 21
- 22
- 23
- 24
- 25
- 26
- 27
- 28
- 29
- 30
- 31



Ces récipients étaient pleins. On les a vidés dans des verres identiques.  
 Entoure en rouge le récipient qui a la plus grande contenance.  
 Entoure en vert celui qui a la plus petite contenance.




  





  


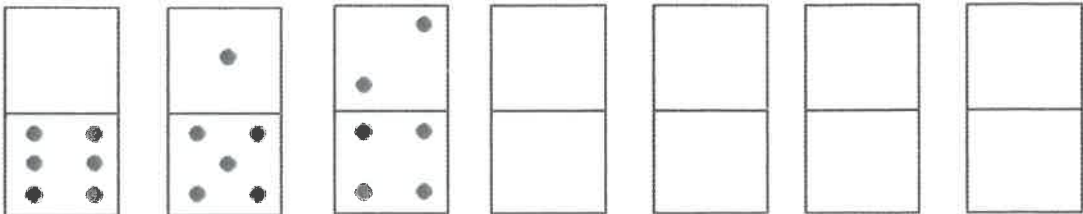

  


---



• Comparer des contenances par utilisation d'une unité.