



# géométrie

CMI

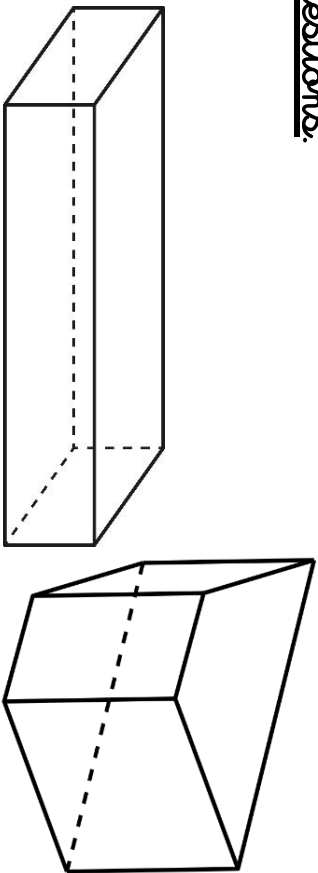
1. Colorie de la bonne couleur.



<u>cube</u>	ROUGE
-------------	-------

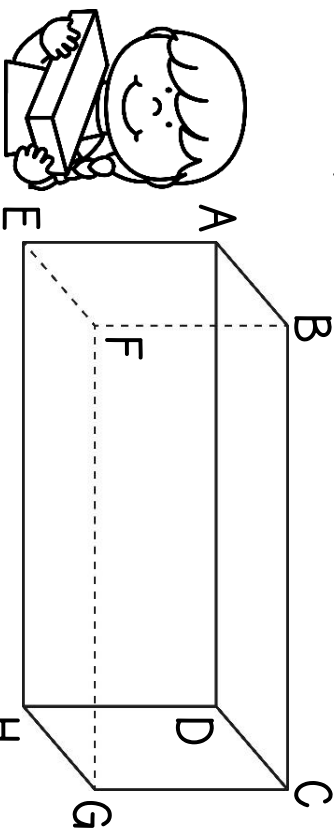
<u>paré droit</u>	<u>prisme</u>	<u>pyramide</u>
BLEU	VERT	JAUNE

2. Observe ces solides, puis réponds avec questions.



- Marque tous leurs sommets en vert.
- Repeins 4 arêtes en bleu.
- Colorie deux faces opposées en jaune.

3. a) Décolle ce pavé droit.



- Montre 3 arêtes parallèles.
- Montre 2 arêtes perpendiculaires.
- Quelle est la face opposée à BCGF ?

Date

Prénom

