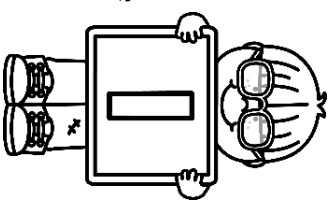


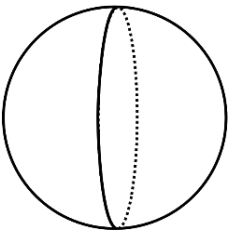
# géométrie

CM2

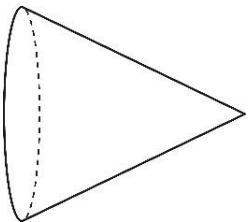
Date \_\_\_\_\_  
Prénom \_\_\_\_\_



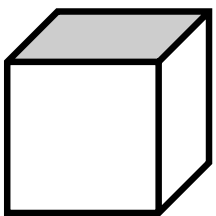
1. Ces figures sont-elles des polyèdres ?



Oui Non



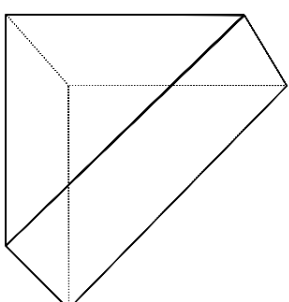
Oui Non




Oui Non



Oui Non

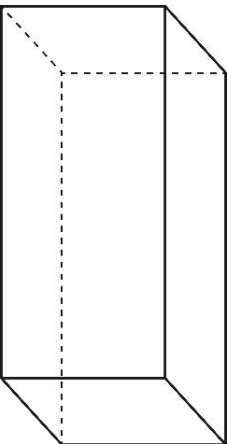
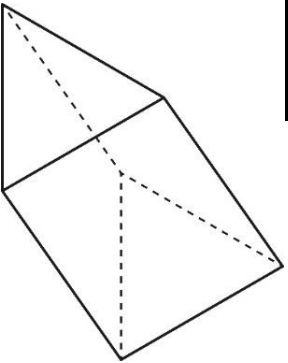


Oui Non



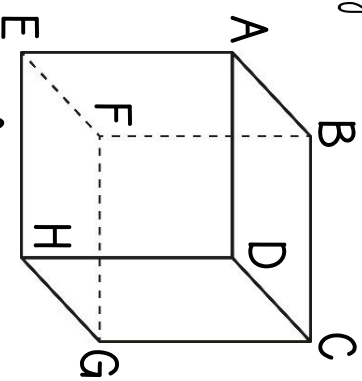

Oui Non

2. Observe ces solides, puis réponds aux questions.



- a) Marque leurs sommets en vert.
- b) Peins leurs arêtes en bleu.
- c) Colorie deux faces opposées en jaune.

3. a) Décolorie cette figure.



- b) Quel est le nom de ce solide ?
- c) Quelle est la forme de ses faces ?
- d) Nomme les faces, les arêtes et les sommets de ce solide.