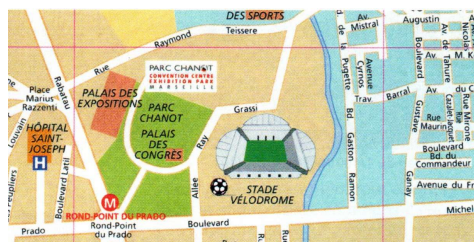




## Le plan

Le **plan** est une représentation simplifiée d'un espace (ville, quartier). Sur un plan, on ne représente que le tracé des rues et la forme de quelques bâtiments importants : mairie, école, église...

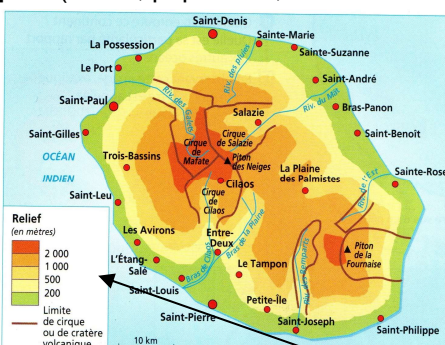


## La carte

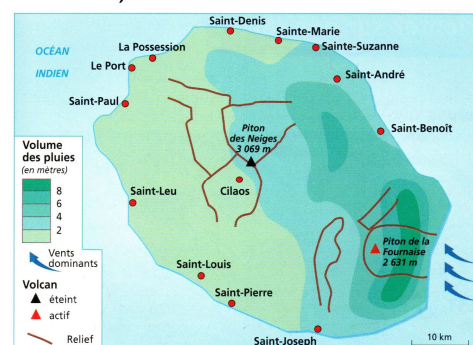
La carte représente un espace plus grand. Il existe différents types de cartes : les **cartes du relief** (montagnes, plaines, océans, rivières...), les **cartes routières**, les **cartes touristiques**, les **cartes administratives** (pays, départements, frontières, villes...), les **cartes thématiques** (climat, population, richesse des habitants...)...



Le réseau routier de l'île de La Réunion



Le relief de l'île de La Réunion





Carte des précipitations de l'île de La Réunion

## Le titre et la légende

Une carte comporte toujours un **titre** qui explique le thème et ce qui va être expliqué et une **légende** qui explique les symboles et les couleurs utilisés.

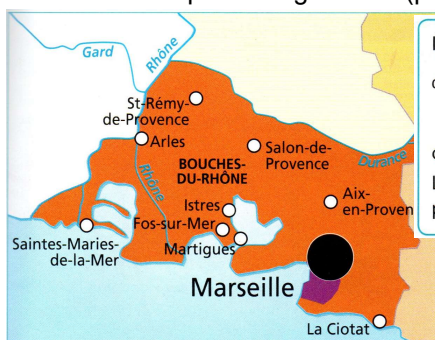
## Les points cardinaux

Pour orienter un plan ou une carte, on se sert des **points cardinaux** : Nord, Sud, Est, Ouest. Lorsqu'il n'y a aucune indication, le **Nord est placé en haut de la carte**, le Sud en bas, l'Est à droite et l'Ouest à gauche.



## L'échelle

Pour dessiner une carte, on est obligé de réduire toutes les dimensions de ce que l'on veut représenter. Pour cela, on divise toutes les dimensions par un certain nombre : par 2, par 10, par 1 000... Plus l'espace représenté est grand, plus la carte est simplifiée et générale (par exemple, il y a moins de détails sur une carte du monde que sur un plan de ville).

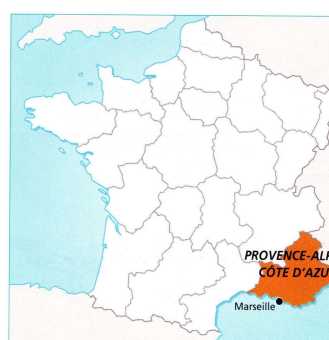


Il y a deux façons d'écrire l'échelle :



ou **1 : 1 000 000**

La carte est 1 000 000 de fois plus petite que la réalité.



Il y a deux façons d'écrire l'échelle :



ou **1 : 10 000 000**

La carte est 10 000 000 de fois plus petite que la réalité.



**Complète le tableau à partir des cartes à disposition en classe.**

N°	Titre du document	Type de document	Où se trouve le Nord ?
1			
2			
3			
4			
5			



**Classe ces cartes de la plus précise à la plus générale.**

La plus précise c'est  
la plus proche de nous

La plus générale c'est  
la plus éloignée

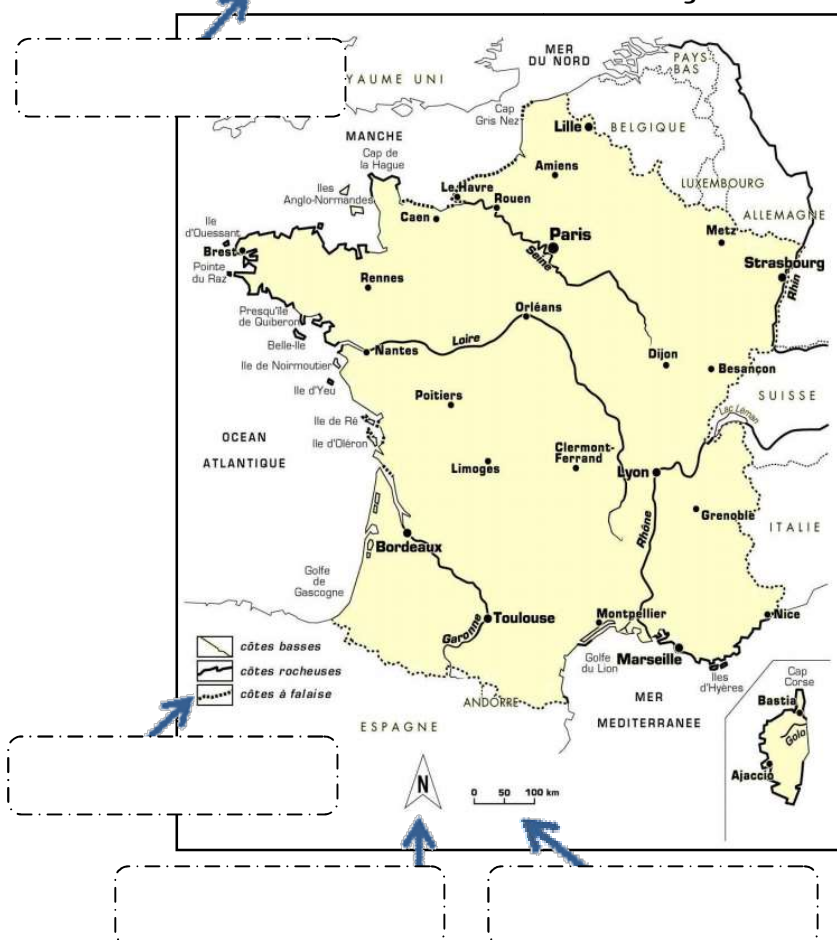
--	--	--	--	--



**Ecris les mots dans le bon cadre :**

*titre – orientation – légende – échelle*

**Carte du littoral français**



**Complète la rose des vents**

Nord	N-E
Sud	S-O
Est	N-O
Ouest	S-E

