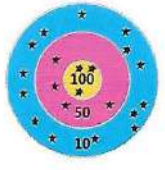




**Plan de travail du jeudi 20 novembre**

<p><b>Orthographe</b></p>	<p align="center"><b>Mémorisation des mots : château, se sauver, piano, poser</b></p> <ul style="list-style-type: none"> <li>• Prendre la 2<sup>nd</sup> partie de la fiche de mémorisation</li> <li>• Les enfants complètent la fiche comme ils ont l'habitude de le faire en classe.</li> <li>• Pour finir, ils la collent dans le cahier d'orthographe</li> </ul>																								
<p><b>Dictée préparatoire</b></p>	<ul style="list-style-type: none"> <li>• Votre enfant fait la présentation sur son cahier du jour, s'il a eu l'occasion de le prendre.</li> <li>• Dictée la phrase suivante à votre enfant : Autrefois, les seigneurs possédaient des châteaux aux murs très hauts.</li> <li>• Il écrit la phrase sur son cahier.</li> <li>• Après avoir relu la phrase. Il fait une correction : Il souligne les mots pour lesquels il y a des erreurs et écrit la correction en dessous.</li> </ul>																								
<p><b>Etude de la langue</b></p>	<p align="center"><b>La grippe, découverte du texte et transposition</b></p> <ul style="list-style-type: none"> <li>• Lis le texte 16.</li> <li>• Réponds aux questions de compréhension.</li> <li>• Lis le texte en t'adressant à une femme : Toi, ma tante, tu ... Aide toi de la transposition du 1er paragraphe pour lire la suite.</li> <li>• Ecris les changements dans les 3 derniers paragraphes.</li> </ul>																								
<p><b>Calcul mental</b></p>	<p align="center"><b>Les tables de multiplication</b></p> <ul style="list-style-type: none"> <li>• Revoir les tables de multiplication de 2 à 5 (cahier rose)</li> <li>• Faire le plan de travail 13 sur Calcul@TICE <i>Identifiant : prenom51100 / mot de passe : Pommery51</i></li> </ul>																								
<p><b>Problèmes</b></p>	<p align="center"><b>Multiplier par 10, 100, 20, 200, ...</b></p> <ul style="list-style-type: none"> <li>• Apprendre Calc 13 et 14 (en pièce jointe)</li> <li>• Faire les exercices 12, 13, 14 et 15</li> </ul> <div style="display: flex; justify-content: space-between;"> <div data-bbox="386 1066 885 1234"> <p><b>12</b> * Le directeur d'une agence de voyages commande 5 cartons de 100 enveloppes pour envoyer des publicités. Combien pourra-t-il envoyer de publicités s'il utilise toutes les enveloppes ?</p> </div> <div data-bbox="933 1066 1421 1144"> <p><b>15</b> * Reproduis et complète ce bon de commande d'un magasin de meubles.</p> </div> </div> <table border="1" data-bbox="933 1144 1421 1354" style="margin-left: auto; margin-right: auto;"> <thead> <tr> <th>Article</th> <th>Quantité</th> <th>Prix unitaire</th> <th>Total</th> </tr> </thead> <tbody> <tr> <td>Table</td> <td>10</td> <td>95 €</td> <td>....</td> </tr> <tr> <td>Chaise</td> <td>60</td> <td>30 €</td> <td>....</td> </tr> <tr> <td>Coussin</td> <td>100</td> <td>15 €</td> <td>....</td> </tr> <tr> <td>Fauteuil</td> <td>15</td> <td>200 €</td> <td>....</td> </tr> <tr> <td colspan="3" style="text-align: right;">TOTAL</td> <td>....</td> </tr> </tbody> </table> <div style="display: flex; justify-content: space-between; margin-top: 20px;"> <div data-bbox="386 1249 885 1417"> <p><b>13</b> * Un laveur de vitres doit nettoyer toutes les vitres de 10 immeubles qui comportent chacun 75 vitres. Combien le laveur va-t-il nettoyer de vitres en tout ?</p> </div> <div data-bbox="933 1375 1421 1774" style="border: 2px solid yellow; padding: 10px;"> <p align="center"><b>À toi de jouer</b></p> <p>Qui de Fatou ou de Juliette a le plus de points ?</p> <div style="display: flex; justify-content: space-around; align-items: center;"> <div style="text-align: center;">  <p>Fatou</p> </div> <div style="text-align: center;">  <p>Juliette</p> </div> </div> </div> </div> <div data-bbox="386 1428 885 1596"> <p><b>14</b> * Un producteur de pommes envoie 50 caisses comme celle-ci à une association afin qu'elles soient distribuées à ceux qui en ont besoin. Combien de kilos de pommes ce producteur envoie-t-il ?</p> </div> <div data-bbox="479 1596 787 1764" style="text-align: center;">  </div>	Article	Quantité	Prix unitaire	Total	Table	10	95 €	....	Chaise	60	30 €	....	Coussin	100	15 €	....	Fauteuil	15	200 €	....	TOTAL			....
Article	Quantité	Prix unitaire	Total																						
Table	10	95 €	....																						
Chaise	60	30 €	....																						
Coussin	100	15 €	....																						
Fauteuil	15	200 €	....																						
TOTAL			....																						
<p><b>Littérature</b></p>	<p align="center"><b>Le buveur d'encre</b></p> <ul style="list-style-type: none"> <li>• Lire le chapitre 3 (Pour les élèves qui n'ont pas le livre, il y a une version numérique du livre dans les pièces jointes)</li> <li>• Répondre aux questions 1 à 6 du questionnaire.</li> </ul>																								