



Comment varie la trajectoire du Soleil selon les saisons ?

fiche B

- 1** Observe les quatre photographies. Quelles différences observes-tu ?  
A ton avis, par quoi sont causés ces changements ?



printemps



été

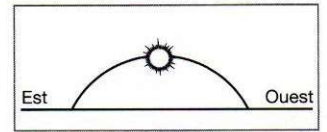
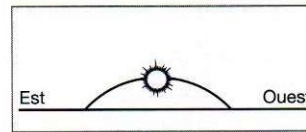
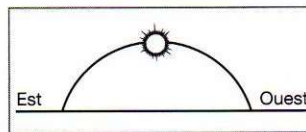
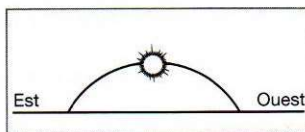


automne

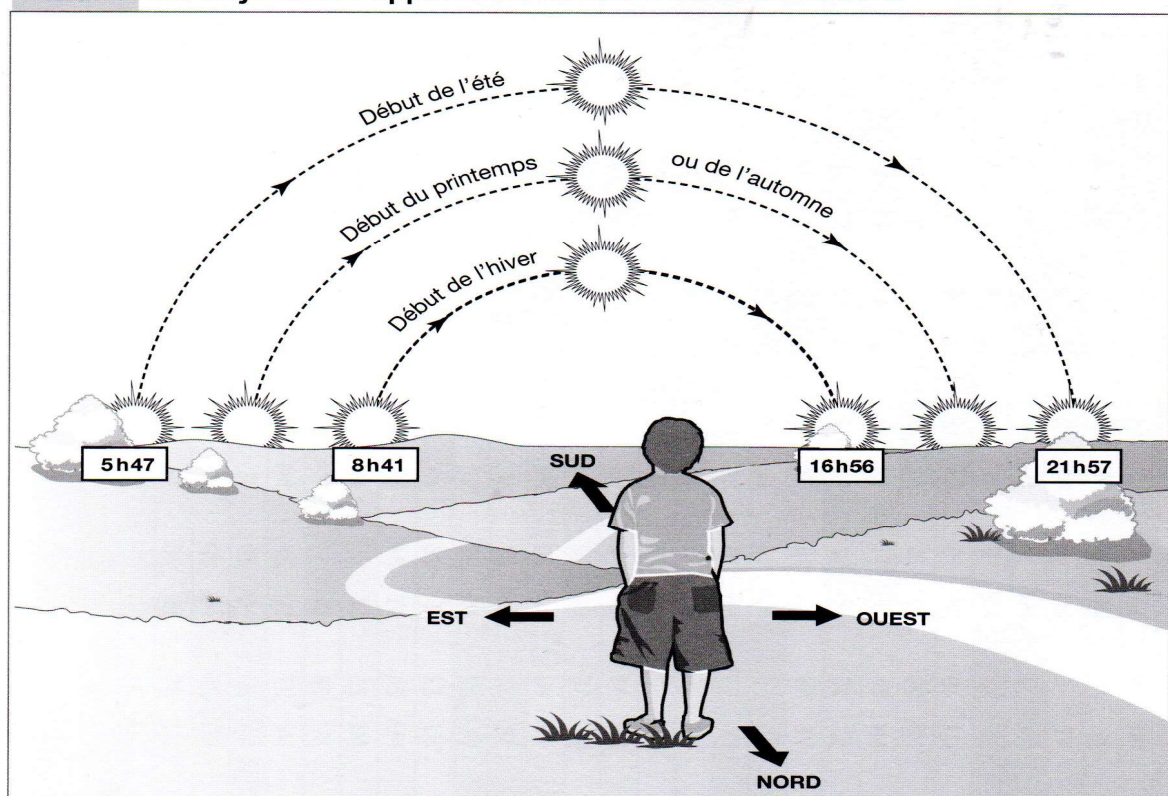


hiver

- 2** Observe ces trajectoires apparentes du Soleil. Écris sous chaque dessin à quelle saison la trajectoire correspond. Attention, les dessins ont été mélangés !



DOC 1. Les trajectoires apparentes du Soleil selon les saisons



**3**

Fais un schéma des observations faites dans la cour.

On doit y voir :

- la trajectoire du Soleil
- l'heure des observations
- les ombres projetées par le gnomon

Titre: .....

