



1 - Range les nombres suivants dans l'ordre croissant (du plus petit au plus grand).



8 • 4 • 7 • 9 • 3 → 3 4 7 8 9 



1 • 6 • 2 • 5 • 10 → 1 2 5 6 10 

5 • 9 • 1 • 3 • 7 → 1 3 5 7 9 

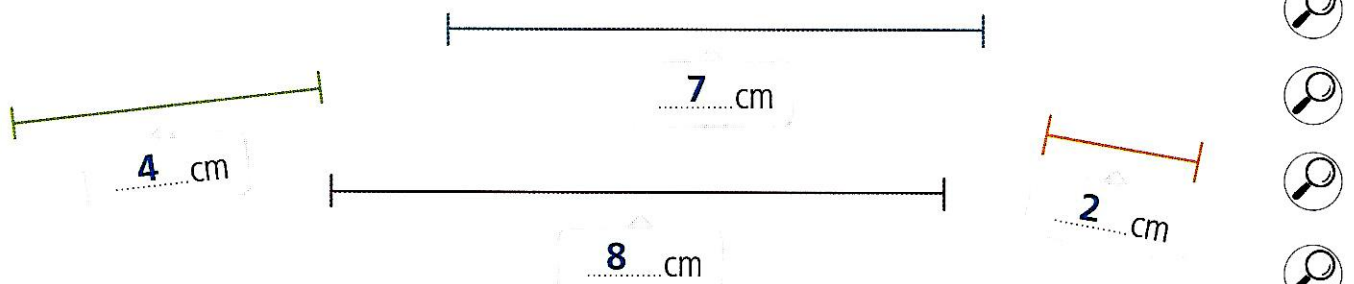
2 - Calcule mentalement les opérations suivantes.

$3 + \dots 7 \dots = 10$   |  $25 + \dots 5 \dots = 30$  

$14 + \dots 6 \dots = 20$   |  $22 + \dots 8 \dots = 30$  

$19 + \dots 1 \dots = 20$   |  $11 + \dots 9 \dots = 20$  

3 - Mesure les segments suivants à l'aide de ta règle.



Quelle est la couleur du plus grand des quatre segments ? violet

4 - Qui suis-je ?

Je suis un nombre compris entre 1 et 20.  
Si on m'ajoute 1, on obtient le double de 6.

Je suis 11



Combien d'indices as-tu pour l'instant ? .....