
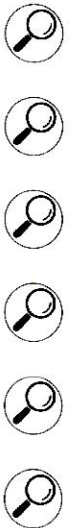



5 - Reproduis le dessin sur le quadrillage puis colorie-le.



6 - Résous le problème. Pose les opérations en ligne, puis complète la phrase réponse.

Dans sa bibliothèque Pablo a 8 livres. Mia en possède le double.

Combien de livres ont-ils en tout ?

Opérations $8 + 8 + 8 = 24$ ou $8 + (2 \times 8) = 8 + 16 = 24$ ou $3 \times 8 = 24$

Phrase réponse ► Mia et Pablo ont 24 livres en tout .



Nombre d'indices obtenus :

De 0 à 5 : Apprenti enquêteur
De 12 à 16 : Fin limier

De 6 à 11 : Bon investigateur
De 17 à 23 : Roi des détectives