




1 - Écris en chiffres les nombres suivants.

quatre-vingt-sept → 87 

soixante-dix-huit → 78 


trente-neuf → 39 

quatre-vingt-cinq → 85 

2 - Calcule les opérations suivantes.


68 + 31

	6	8
+	3	1
	9	9




42 + 25

	4	2
+	2	5
	6	7




67 + 32

	6	7
+	3	2
	9	9





25 + 34


	2	5
+	3	4
	5	9




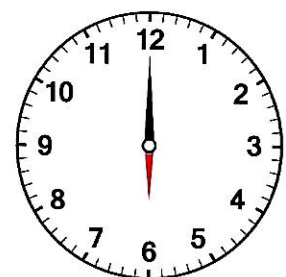
3 - Écris l'heure du matin indiquée par les horloges. [Exemple : 12 h 00]




3 h 00 



8 h 30 



6 h 00 

4 - Complète le carré magique ci-dessous.

6	5	4
7	5	3
2	5	8

La somme de chaque ligne et de chaque colonne doit être identique.



Combien d'indices as-tu pour l'instant ?