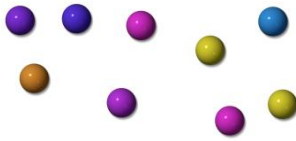


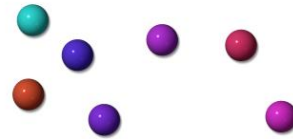
1./ Voici les billes d'Antoine et de son frère Dylan :

Les billes d'Antoine :



Nombre de billes :

Les billes de Dylan :



Nombre de billes :

- Quel enfant a le plus de billes ?

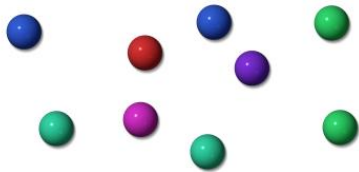
.....

- Antoine et Dylan décident de rassembler toutes leurs billes dans un bocal. Combien ont-ils de billes en tout ?

.....

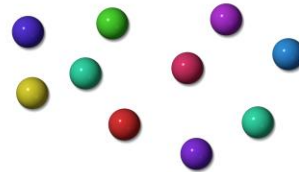
2./ Voici les billes de Kenza et de son frère Elyès :

Les billes de Kenza :



Nombre de billes :

Les billes d'Elyès :



Nombre de billes :

- Quel enfant a le moins de billes ?

.....

- Kenza et Elyès décident de rassembler toutes leurs billes. Combien ont-ils de billes en tout ?

.....

3./ Nathalie et son frère Pierre collectionnent les pièces de monnaie :

Les pièces de Nathalie :



Nombre de pièces :

Les pièces de Pierre :



Nombre de pièces :

- Quel enfant a le plus de pièces ?

.....

- Nathalie et Pierre décident de rassembler toutes leurs pièces dans une tirelire. Combien ont-ils de pièces en tout ?

.....